

Имя и фамилия.....

Школа.....

Учитель географии

1. Ответь, на основе карты, на следующие вопросы.

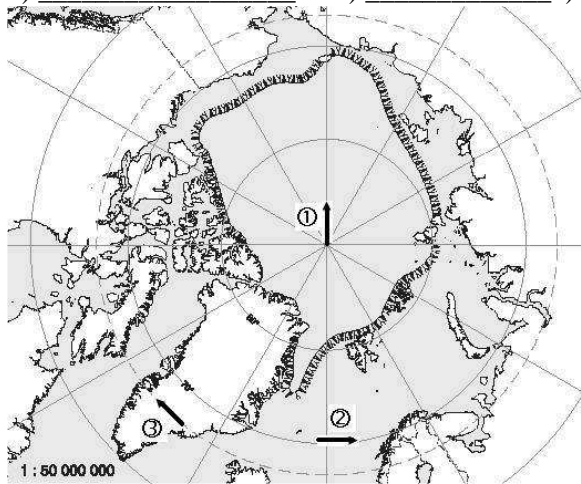
a) Как называется показанная на карте область? _____

1 б

b) Какие направления показывают стрелки?

1) _____ 2) _____ 3) _____

1 б



c) Отметь на карте X-ом Северный полюс.

1 б

d) Заштрихуй на карте территорию, где бывают полярный день и полярная ночь.

1 б

e) Сегодня 15.11. Сейчас на Северном полюсе полярный день или полярная ночь?.....

Почему?

2 б

2. Какие формы рельефа показаны на картинках? Укажи их названия и происхождение.



Форма рельефа:

4 б

Происхождение:

.....

Форма рельефа:

Происхождение:

.....



3. Средняя толщина морского льда в Северном Ледовитом океане 1–3 м, а в водах Антарктики 1–2 м. Каковы причины этих различий?

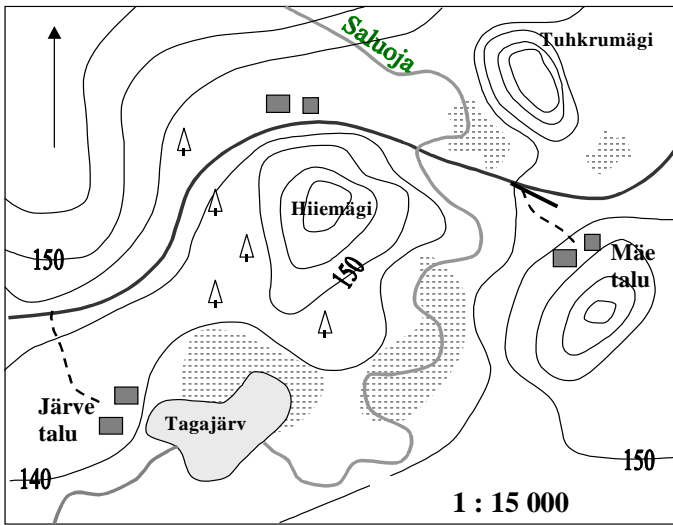
1).....

2 б

2).....

4. Составь описание пути из хутора Мäе в хутор Järve, упомянув, по меньшей мере, дважды названия сторон света, расстояния и формы рельефа.

5 б



Отметь X-ом место, где вероятность эрозии наиболее велика.

Каков перепад высот между горизонталями на карте?

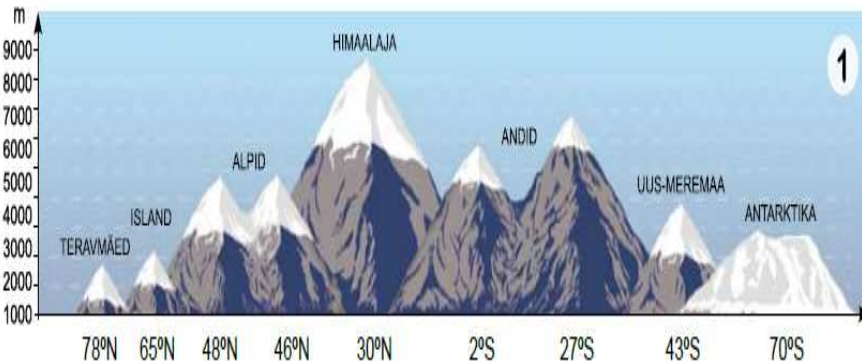
На каком берегу ручья Saluoja находится холм Hiimägi: правом или левом?

Какова относительная высота холма Tuhkrumägi от ее юго-восточного подножия?

5. Какая закономерность показана на рисунке, и каковы ее причины?

Шпицберген Исландия Альпы Гималаи Анды Новая Зеландия Антарктика

2 б



.....

.....

.....

.....

.....

.....

6. Каково положение Солнца в полдень в день летнего солнцестояния в перечисленных местах? Почему?

6 б

a) Маскат (Masqat) -, так как

b) Ротера (Rothera) -, так как

c) Рокхемптон (Rockhampton) -, так как

7. Самая северная колония пингвинов обитает в Тихом океане на островах, расположенных на экваторе. Кроме того, эти характерные для Антарктики птицы живут также у Южного тропика в Африке, на побережье пустыни Намиб.

2 б

Назови острова:

Почему эти антарктические птицы могут жить в некоторых участках жаркого пояса?


8. В какую сторону света, и по какому азимуту следует двигаться, чтобы попасть

4 б

1) с мыса Нордост (Kirdeneem) в Гренландии на остров Элсмир (Ellesmere): сторона света
....., азимут

2) из Чукотского моря в Берингово море: сторона света, азимут
.....

9. Придумай наиболее точное название для этой диаграммы. Время 22 декабря 21 июня 2 б



9. Сформулируй наиболее точное название для этого рисунка:

.....

 22 декабря 21 июня

10. Где одновременно действительны все поясные времена?

1 б

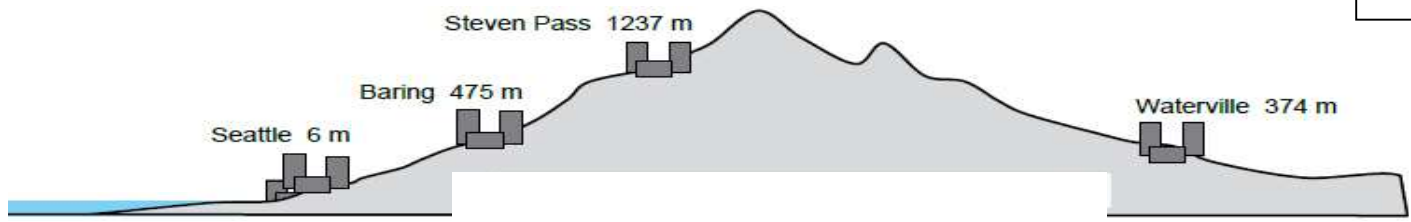
11. Каковы различия земной коры Эстонии и Исландии?

4 б

- 1)
- 2)
- 3)
- 4)

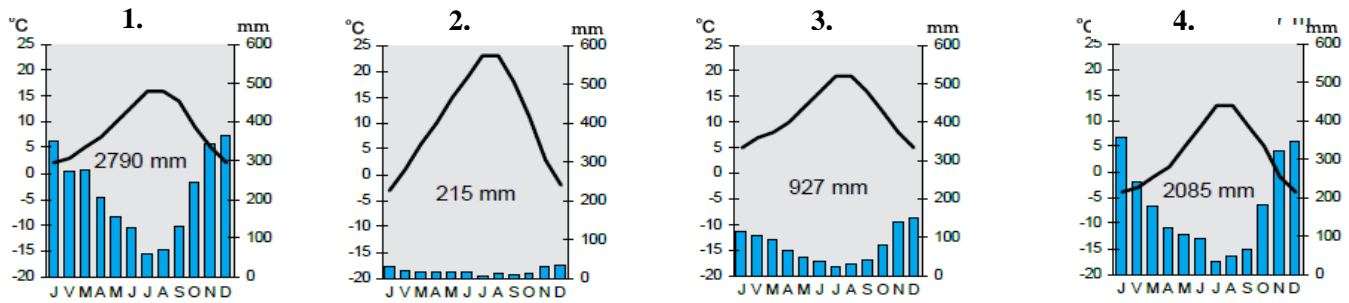
12. Соедини климатические диаграммы с соответствующими местами на рисунке. Для этого напиши номер диаграммы рядом с названием места в перечне. Что это за горы?

7 б



Тихий океан

горы :



Запиши номер диаграммы, обоснуй свое решение и укажи факторы, влияющие на климат:

Seattle, номер

Baring, номер

Steven Pass, номер

Waterville, номер

13. Составь из перечисленных слов связанные друг с другом пары. Один термин лишний.

Муссон, фьорд, дюна, ледник, коса, низменность, фоссилии, пассат, рифт, наводнение, известняк, горячая точка, польдер.

Найди для каждой пары слов страну, для которой эти явления характерны. Одна страна лишняя.

Польша, Канада, Бразилия, Китай, Исландия, Эстония, Голландия.

6 б

Пары терминов	Страна

14. Правильно ли утверждение? Отметь правильное утверждение в рамке X-ом. Переделай неправильное утверждение в правильное.

5 б

- 1) Аляска принадлежала России до 1914 года.
- 2) Сорбы живут в Сербии.
- 3) Остров Калимантан принадлежит трем государствам.
- 4) Штаб-квартира ОПЕК находится в Вене.
- 5) Наиболее богатое осадками место в Европе находится в Альпах.

15. Какое положительное и отрицательное влияние оказывает на Норвегию ее расположение и форма территории? Назови фактор, и укажи его конкретное влияние на какую-либо сферу жизни.

6 б

Положительное: 1)

.....

2).....

.....

Отрицательное: 1)

.....

2).....

.....

Какое еще государство имеет сходное расположение и форму?

Чем существенно отличается климат этих стран и почему?

.....

16. Каким странам соответствуют эти устаревшие названия или прозвища?

3 б

Галлия -

Альбион -

Голландия -

Страна кленового листа -

Сапог -

Страна троллей -

ВСЕГО 65 БАЛЛОВ